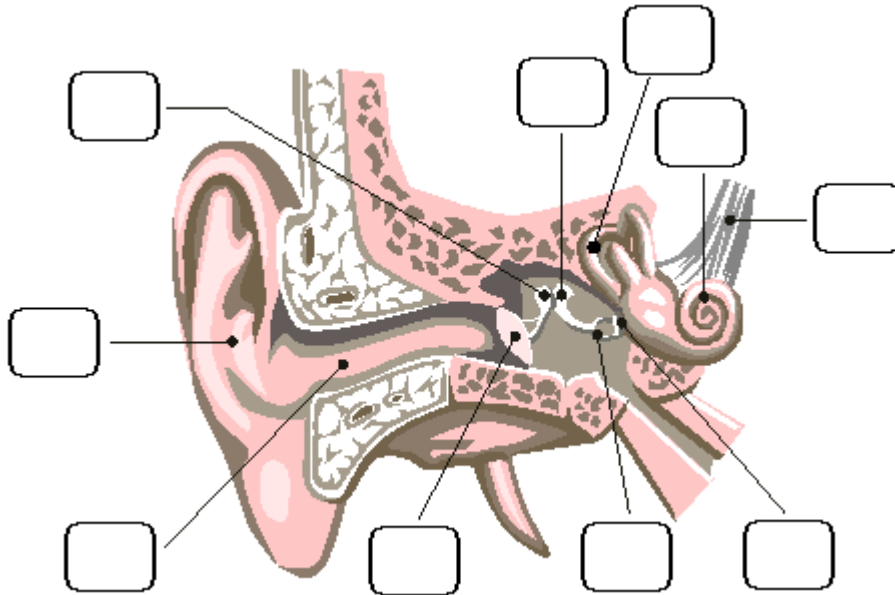


Ordne die richtige Nummer zu!



- |                            |   |
|----------------------------|---|
| <b>1</b> Ohrmuschel        | <b>2</b> Amboss                             |
| <b>3</b> Hammer            | <b>4</b> Trommelfell                        |
| <b>5</b> äußerer Gehörgang | <b>6</b> Hörnerv                            |
| <b>7</b> ovales Fenster    | <b>8</b> Bogengänge und Gleichgewichtsorgan |
| <b>9</b> Steigbügel        | <b>10</b> Schnecke                          |


Nenne die drei Bereiche des Ohres!



\_\_\_\_\_

\_\_\_\_\_

\_\_\_\_\_




Wie heißen die drei Gehörknöchelchen?

---

---

---


Wozu haben wir zwei Ohren?



---

---

---



Wie kannst du deine Ohren schützen? Nenne 3 Beispiele!

---

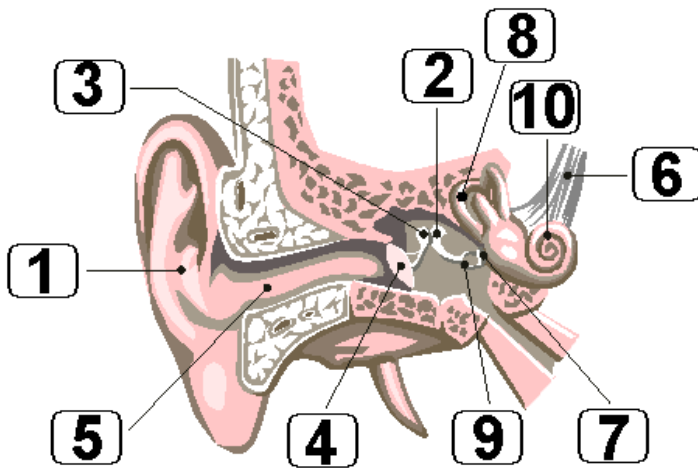
---

---

**Viel Erfolg!**



**LÖSUNG:**



**Außenohr - mittleres Ohr - Innenohr**

**Amboss, Hammer und Steigbügel**

**Damit wir rechts und links unterscheiden können und besser hören können.**

**Z.B. Lärm vermeiden, z.B. durch Schallschutzfenster, bei lauten Berufen  
Ohrenschützer tragen, nach dem Haare waschen die Haare schnell trocknen etc.**