


Arbeitsblatt für das Fach Mathe


Klasse 1

Rechnen mit dem Euro/Rechengeschichten (Zahlenraum bis 10)



Im Spielzeuggeschäft.
Was kostet jedes Stück?

Tobias kauft:



je 6 €

Tobias gibt:



Tobias bekommt



zurück.

Pia kauft:



je 2 €

Pia gibt:




Pia bekommt



zurück.

Ute kauft:



je 8 €

Ute gibt:



Ute bekommt



zurück.

Tobias gibt 20 €

Pia gibt 20 €

Ute gibt 20 €