


Arbeitsblatt für das Fach Mathe

Klasse 1

Rechnen mit dem Euro mit 2 Unbekannten (Zahlenraum bis 10)



Im Spielzeuggeschäft.
Was kostet jedes Stück?

Sabine kauft:



Thomas kauft:



Was kostet jedes Stück?



4 €




___ €


Sabine bezahlt 5 €

Thomas bezahlt 6 €

Florian kauft:



Tobias kauft:



Was kostet jedes Stück?



___ €



___ €

Florian bezahlt 10 €

Tobias bezahlt 6 €

Pia kauft:



Elke kauft:



Was kostet jedes Stück?



___ €



___ €

Pia bezahlt 9 €

Elke bezahlt 10 €

Was kostet jedes Stück?



4 €



1 €

Was kostet jedes Stück?



6 €



2 €

Was kostet jedes Stück?



1 €



5 €