




Berechne das Ergebnis mit Hilfe der Punkte!




$$\underline{\quad} \cdot \underline{\quad} = \underline{\quad}$$




$$\underline{\quad} \cdot \underline{\quad} = \underline{\quad}$$




$$\underline{\quad} \cdot \underline{\quad} = \underline{\quad}$$



$$\underline{\quad} \cdot \underline{\quad} = \underline{\quad}$$



$$\underline{\quad} \cdot \underline{\quad} = \underline{\quad}$$



$$\underline{\quad} \cdot \underline{\quad} = \underline{\quad}$$

Weitere anspruchsvolle Proben für das Fach Mathematik in der zweiten Klasse findest Du auf unserer Partnerseite www.CATLUX.de. Dort gibt es ausführliche Musterlösungen, anspruchsvolle Proben, Lernzielkontrollen, Schulaufgaben und Klassenarbeiten für alle Schularten, Klassen und Fächer, passend zum aktuellen Lehrplan.

Lösung

Klasse 2

Einmaleins: Quadratzahl-Aufgaben



$$2 \cdot 2 = 4$$

$$4 \cdot 4 = 16$$

$$8 \cdot 8 = 64$$

$$6 \cdot 6 = 36$$

$$3 \cdot 3 = 9$$

$$5 \cdot 5 = 25$$

Weitere anspruchsvolle Proben für das Fach Mathematik in der zweiten Klasse findest Du auf unserer Partnerseite www.CATLUX.de. Dort gibt es ausführliche Musterlösungen, anspruchsvolle Proben, Lernzielkontrollen, Schulaufgaben und Klassenarbeiten für alle Schularten, Klassen und Fächer, passend zum aktuellen Lehrplan.

