


# Arbeitsblatt für das Fach Mathe

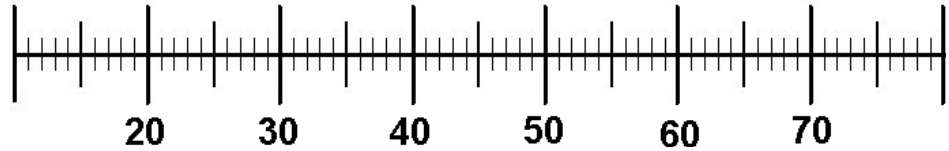
Klasse 2

Zahlenraum 100: Rechnungen am Zahlenstrahl

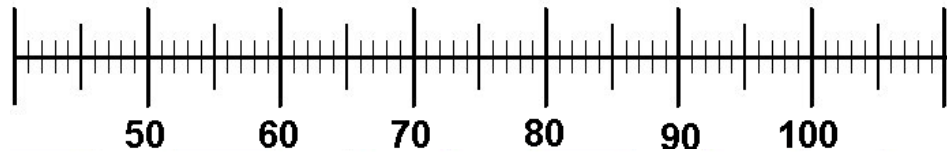


Zeichne die Pfeile ein und rechne!  
Setze  $<$ ,  $>$  oder  $=$  ein!

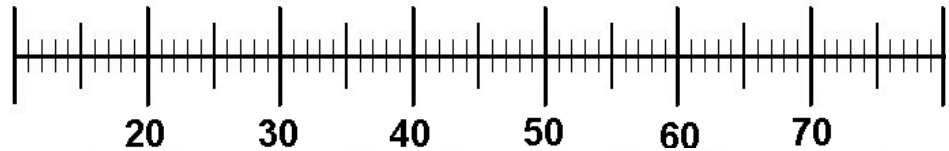
$33 + 9 \bigcirc 40$



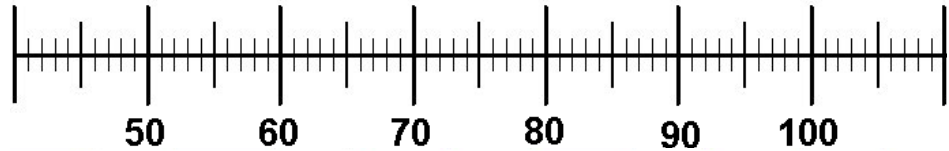
$69 + 9 \bigcirc 76$



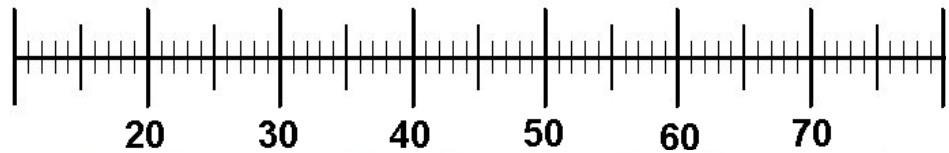
$49 + 5 \bigcirc 55$



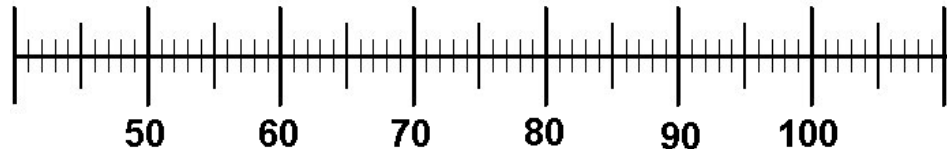
$92 - 5 \bigcirc 87$



$32 - 3 \bigcirc 28$



$58 + 7 \bigcirc 65$



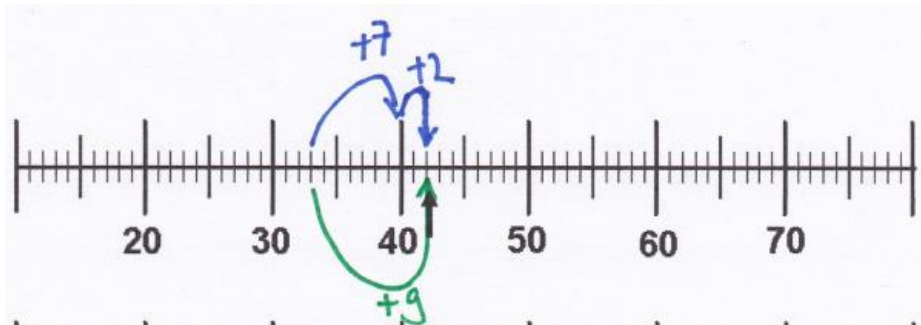
Weitere anspruchsvolle Proben für das Fach Mathematik in der zweiten Klasse findest Du auf unserer Partnerseite [www.CATLUX.de](http://www.CATLUX.de). Dort gibt es ausführliche Musterlösungen, anspruchsvolle Proben, Lernzielkontrollen, Schulaufgaben und Klassenarbeiten für alle Schularten, Klassen und Fächer, passend zum aktuellen Lehrplan.

# Lösung

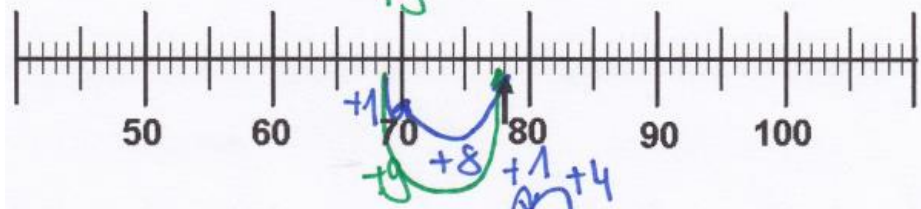
Zahlenraum 100: Rechnungen am Zahlenstrahl



$$33 + 9 > 40$$



$$69 + 9 > 76$$



$$49 + 5 < 52$$



$$92 - 5 = 87$$



$$32 - 3 > 28$$



$$58 + 7 = 65$$



Weitere anspruchsvolle Proben für das Fach Mathematik in der zweiten Klasse findest Du auf unserer Partnerseite [www.CATLUX.de](http://www.CATLUX.de). Dort gibt es ausführliche Musterlösungen, anspruchsvolle Proben, Lernzielkontrollen, Schulaufgaben und Klassenarbeiten für alle Schularten, Klassen und Fächer, passend zum aktuellen Lehrplan.

