


# Arbeitsblatt für das Fach Mathe

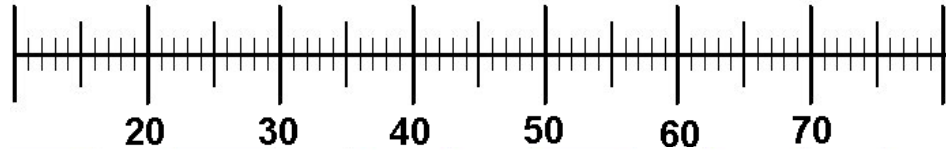
Klasse 2

Zahlenraum 100: Rechnungen am Zahlenstrahl

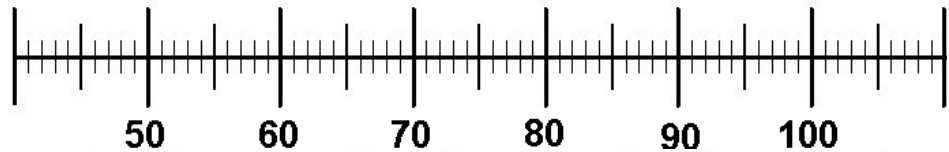


Zeichne die Pfeile ein und rechne!  
Setze  $<$ ,  $>$  oder  $=$  ein!

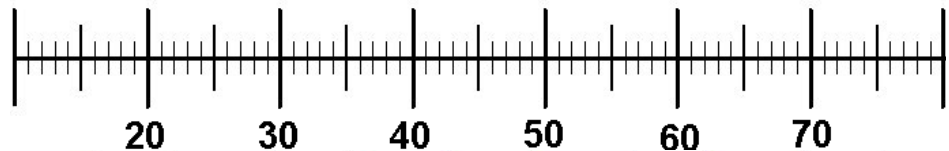
$28 + 7 \bigcirc 36$



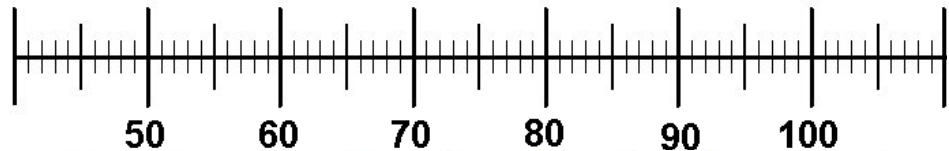
$56 + 6 \bigcirc 62$



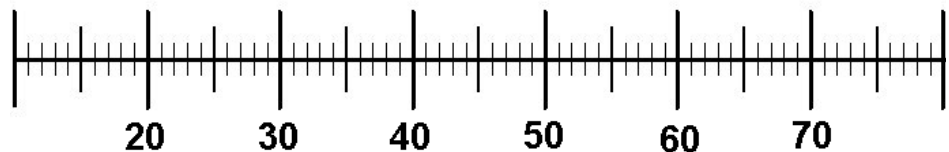
$38 + 4 \bigcirc 45$



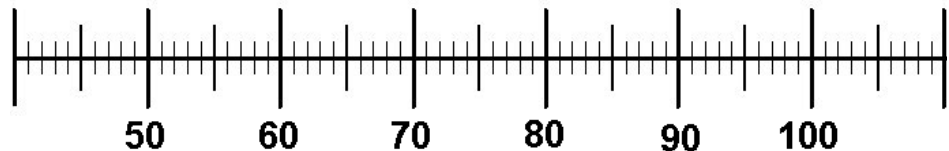
$65 + 7 \bigcirc 70$



$46 + 8 \bigcirc 52$



$84 + 9 \bigcirc 93$



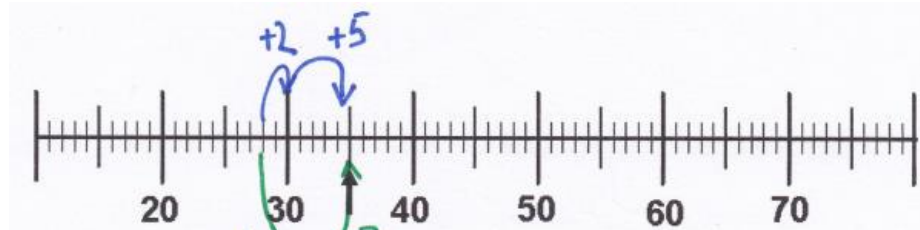
Weitere anspruchsvolle Proben für das Fach Mathematik in der zweiten Klasse findest Du auf unserer Partnerseite [www.CATLUX.de](http://www.CATLUX.de). Dort gibt es ausführliche Musterlösungen, anspruchsvolle Proben, Lernzielkontrollen, Schulaufgaben und Klassenarbeiten für alle Schularten, Klassen und Fächer, passend zum aktuellen Lehrplan.

# Lösung


Zahlenraum 100: Rechnungen am Zahlenstrahl




$28 + 7 < 36$



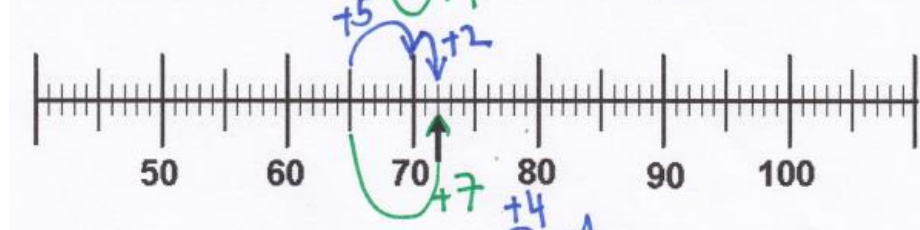
$56 + 6 = 62$



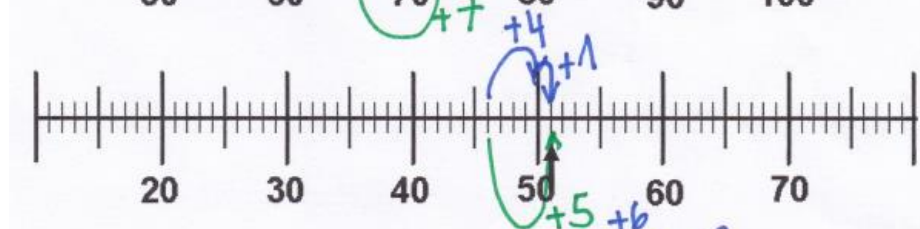
$38 + 4 < 45$



$65 + 7 > 70$



$46 + 5 > 52$



$84 + 9 = 93$



Weitere anspruchsvolle Proben für das Fach Mathematik in der zweiten Klasse findest Du auf unserer Partnerseite [www.CATLUX.de](http://www.CATLUX.de). Dort gibt es ausführliche Musterlösungen, anspruchsvolle Proben, Lernzielkontrollen, Schulaufgaben und Klassenarbeiten für alle Schularten, Klassen und Fächer, passend zum aktuellen Lehrplan.

