


# Arbeitsblatt für das Fach Mathe

Klasse 2

Zahlenraum bis 100: Rechnen mit Geld mit dem Euro




Wie viel Geld ist es?




\_\_\_\_\_ Euro \_\_\_\_\_ Cent



\_\_\_\_\_ Euro \_\_\_\_\_ Cent



\_\_\_\_\_ Euro \_\_\_\_\_ Cent



\_\_\_\_\_ Euro \_\_\_\_\_ Cent

# Lösung

Klasse 2

Zahlenraum bis 100: Rechnen mit Geld mit dem Euro

---



**75 Euro**

**29 Euro 7 Cent**

**62 Euro 6 Cent**

**68 Euro 10 Cent**

