

Welche Zahlen sind das?













- Fünfundzwanzig _____
- Zweiundsiebzig _____
- Achtundneunzig _____
- Dreiundfünfzig _____
- Fünfundvierzig _____
- Vierundfünfzig _____
- Neunundachtzig _____
- Dreißig _____
- Sechsendfünfzig _____
- Zweiunddreißig _____
- Vierundzwanzig _____
- Einundachtzig _____

Lösung

Klasse 2

Zahlenraum 100: Zahlen kennenlernen



 Fünfundzwanzig	25
 Zweiundsiebzig	72
 Achtundneunzig	98
 Dreiundfünfzig	53
 Fünfundvierzig	45
 Vierundfünfzig	54
 Neunundachtzig	89
 Dreißig	30
 Sechsendfünfzig	56
 Zweiunddreißig	32
 Vierundzwanzig	24
 Einundachtzig	81

Weitere anspruchsvolle Proben für das Fach Mathematik 2. Klasse findest Du auf unserer Partnerseite www.CATLUX.de. Dort gibt es ausführliche Musterlösungen, Proben, Lernzielkontrollen, Schulaufgaben und Klassenarbeiten für alle Schularten, Klassen und Fächer, passend zum aktuellen Lehrplan.

