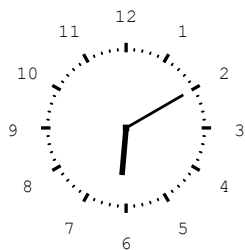
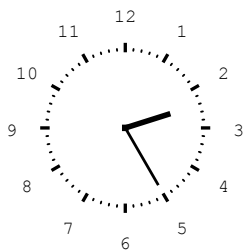




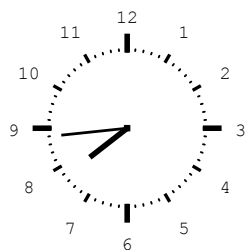
Wie spät ist es? Schreibe die Uhrzeit unter das Ziffernblatt.
Beachte die Tageszeit!



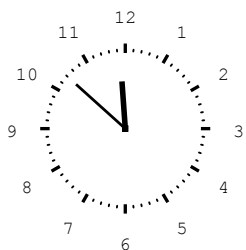
Abend




Morgen



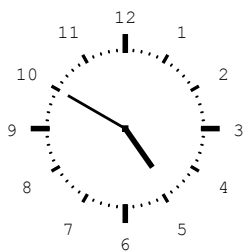
Abend



Morgen



Abend



Morgen



Wie viele Minuten vergehen bis zur nächsten Stunde?

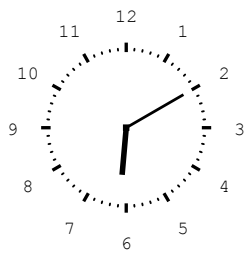
14.03 Uhr	20.12 Uhr	4.46 Uhr	00.09 Uhr
_____ min	_____ min	_____ min	_____ min

Viel Erfolg!

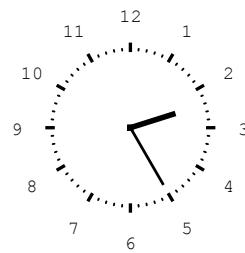
Lösung

Klasse 3

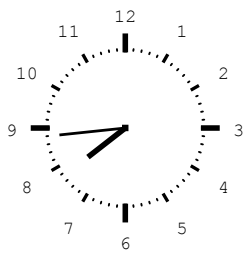
Zeit und Uhr



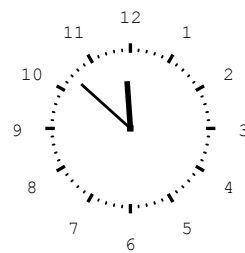
Abend
18:10 Uhr




Morgen
2:25 Uhr



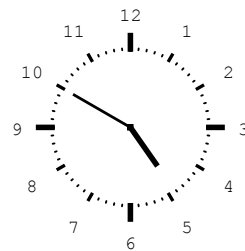
Abend
19:44 Uhr



Morgen
11:52 Uhr



Abend
13:04 Uhr



Morgen
4:50 Uhr

14.03 Uhr	20.12 Uhr	4.46 Uhr	00.09 Uhr
57 min	48 min	14 min	51 min

Weitere anspruchsvolle Proben für das Fach Mathematik in Klasse 3 findest Du auf unserer Partnerseite www.CATLUX.de. Dort gibt es ausführliche Musterlösungen, Proben, Lernzielkontrollen, Schulaufgaben und Klassenarbeiten für alle Schularten, Klassen und Fächer, passend zum aktuellen Lehrplan.

