

Arbeitsblatt für das Fach Mathe

Klasse 3

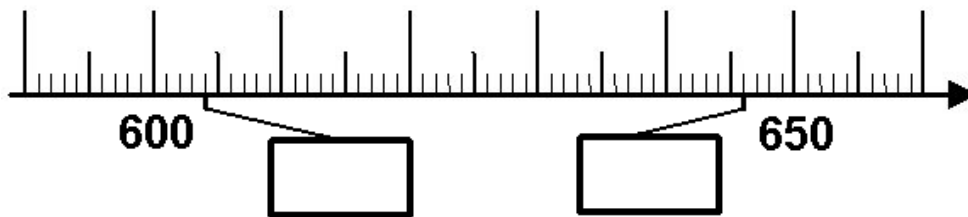
Zahlenstrahl im Zahlenraum bis 1 000



Verbinde die Zahlen mit dem Zahlenstrahl bzw. trage sie ein!

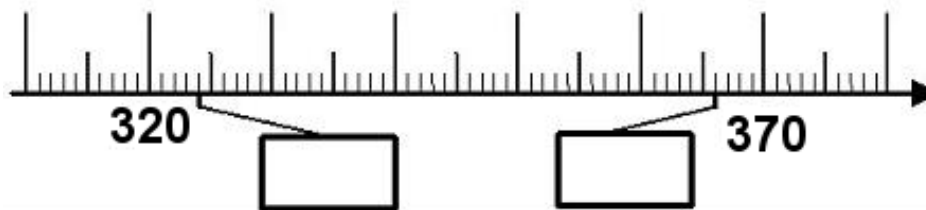
626

638



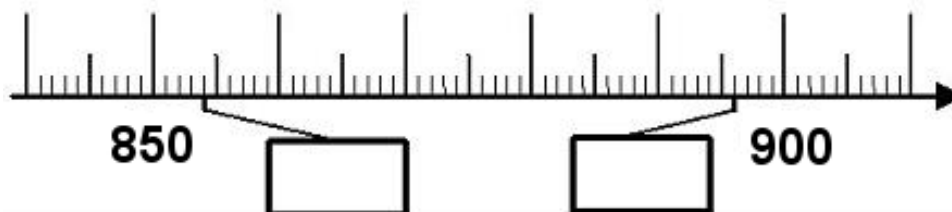
355

362



884

867

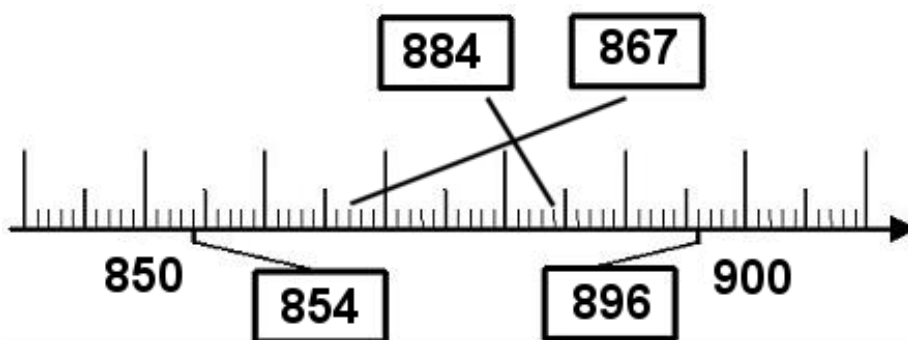
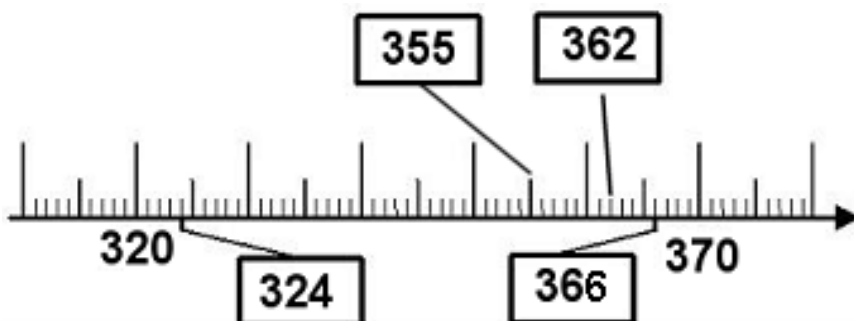
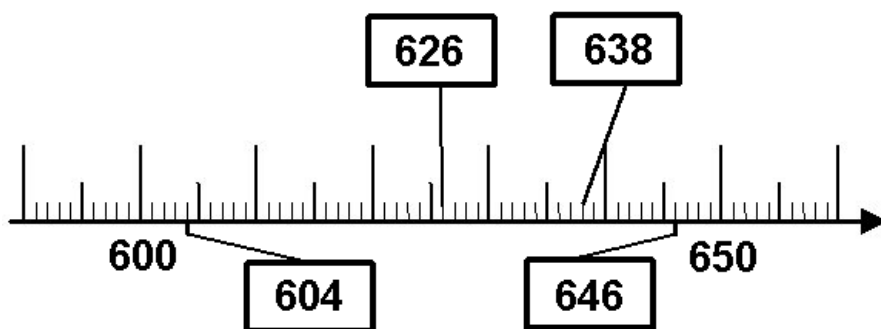


Weitere anspruchsvolle Proben für das Fach Mathematik in Klasse 3 findest Du auf unserer Partnerseite www.CATLUX.de. Dort gibt es ausführliche Musterlösungen, Proben, Lernzielkontrollen, Schulaufgaben und Klassenarbeiten für alle Schularten, Klassen und Fächer, passend zum aktuellen Lehrplan.

Lösung

Klasse 3

Zahlenstrahl im Zahlenraum bis 1 000



Weitere anspruchsvolle Proben für das Fach Mathematik in Klasse 3 findest Du auf unserer Partnerseite www.CATLUX.de. Dort gibt es ausführliche Musterlösungen, Proben, Lernzielkontrollen, Schulaufgaben und Klassenarbeiten für alle Schularten, Klassen und Fächer, passend zum aktuellen Lehrplan.

