

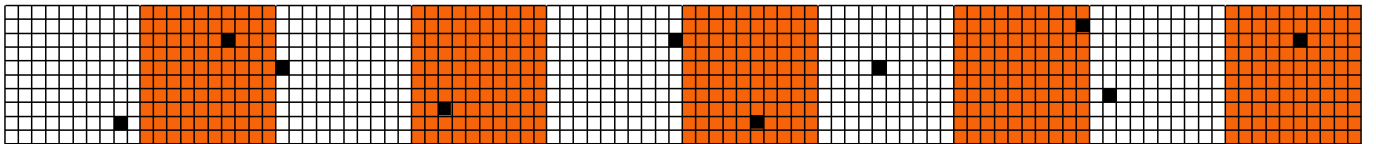

Arbeitsblatt für das Fach Mathe

Klasse 3

Tausenderstreifen, Tausenderfeld, Hundertertafel



Tausenderstreifen. Wie heißen die schwarzen Zahlen?



In welches Kästchen gehören die Zahlen? Male es farbig an!



510 (grün)


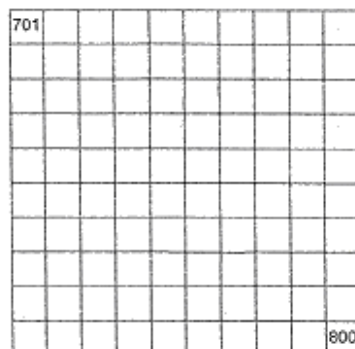
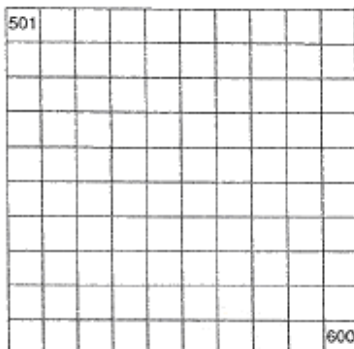
715 (blau)

820 (rot)

534 (schwarz)

766 (braun)

879 (gelb)



Lösung

Klasse 3

Tausenderstreifen, Tausenderfeld, Hundertertafel



4	150 873	226 922	400	404	591	601	655
89	127 862	241 926	373	430	586	645	720

510 (grün)

715 (blau)

820 (rot)

534 (schwarz)

766 (braun)

879 (gelb)

