


Arbeitsblatt für das Fach Mathe


Klasse 4

Rechnen im Zahlenraum 1 000 000 (Subtrahieren)




Rechne im Kopf!

-	60	700	4000	-	10	300	2000
203600				362110			
356222				580950			
465230				721630			
645980				955625			



Rechne schriftlich!

-	136855	263748	368814	-	269823	316576	428369
569992				953532			
659872				655987			
498712				498263			
899234				569237			



Weitere anspruchsvolle Proben für das Fach Mathematik in der vierten Klasse findest Du auf unserer Partnerseite www.CATLUX.de. Dort gibt es ausführliche Musterlösungen, anspruchsvolle Proben, Lernzielkontrollen, Schulaufgaben und Klassenarbeiten für alle Schularten, Klassen und Fächer, passend zum aktuellen Lehrplan.

Lösung

Klasse 4

Rechnen im Zahlenraum 1 000 000 (Subtrahieren)



-	60	700	4000
203600	203540	203100	199600
356222	356162	355522	352222
465230	465170	464530	461230
645980	645920	645220	641980

-	10	300	2000
362110	362100	361810	360110
580950	580940	580650	578950
721630	721620	721330	719630
955625	955615	955325	953625

-	136855	263748	368814
569992	433137	306234	201178
659872	796727	396124	291058
498712	361857	234964	129898
899234	762379	635486	530420

-	269823	316576	428369
953532	683709	636956	525163
655987	386164	339411	227618
498263	228440	181687	69894
569237	299414	252661	140868

Weitere anspruchsvolle Proben für das Fach Mathematik in der vierten Klasse findest Du auf unserer Partnerseite www.CATLUX.de. Dort gibt es ausführliche Musterlösungen, anspruchsvolle Proben, Lernzielkontrollen, Schulaufgaben und Klassenarbeiten für alle Schularten, Klassen und Fächer, passend zum aktuellen Lehrplan.

