




Wir üben das Addieren im Zahlenraum bis 10.
Zähle, schreibe auf und rechne!



+



=



+




=




+



=



+



$4 + 2 = \underline{\hspace{2cm}}$

$5 + 5 = \underline{\hspace{2cm}}$

$2 + 8 = \underline{\hspace{2cm}}$

$5 + 2 = \underline{\hspace{2cm}}$

$7 + 3 = \underline{\hspace{2cm}}$

$6 + 3 = \underline{\hspace{2cm}}$


$3 + 4 = \underline{\hspace{2cm}}$

$0 + 8 = \underline{\hspace{2cm}}$

Lösung

Klasse 1

Addieren im Zahlenraum bis 10 (+ die Zahl 0)



5

+



3


=

8



3

+



2

=

5



3


+



3

=

6



5

+



4

9

$$4 + 2 = 6$$

$$5 + 5 = 10$$

$$2 + 8 = 10$$

$$5 + 2 = 7$$

$$7 + 3 = 10$$

$$6 + 3 = 9$$

$$3 + 4 = 7$$

$$0 + 8 = 8$$

Weitere anspruchsvolle Proben für das Fach Mathematik findest Du auf unserer Partnerseite www.CATLUX.de.
Dort gibt es ausführliche Musterlösungen, Proben, Lernzielkontrollen, Schulaufgaben und Klassenarbeiten für alle Schularten, Klassen und Fächer, passend zum aktuellen Lehrplan.