



Wir üben das Addieren und Subtrahieren im Zahlenraum bis 5.  
Zähle, schreibe auf und rechne!





-

=





+

=



+

=



-

=

$5 - 2 = \underline{\hspace{2cm}}$

$1 + 4 = \underline{\hspace{2cm}}$

$1 + 2 = \underline{\hspace{2cm}}$

$1 - 1 = \underline{\hspace{2cm}}$

$5 - 1 = \underline{\hspace{2cm}}$

$3 - 2 = \underline{\hspace{2cm}}$


$2 + 2 = \underline{\hspace{2cm}}$

$0 + 2 = \underline{\hspace{2cm}}$

# Lösung

Klasse 1

Addieren und Subtrahieren im Zahlenraum bis 5



4

–



2

=

2



3

+



1


=

4



2


+



3


=

5



5

–



3

=

2

$$5 - 2 = 3$$

$$1 + 4 = 5$$

$$1 + 2 = 3$$

$$1 - 1 = 0$$

$$5 - 1 = 4$$

$$3 - 2 = 1$$

$$2 + 2 = 4$$

$$0 + 2 = 2$$

Weitere anspruchsvolle Proben für das Fach Mathematik findest Du auf unserer Partnerseite [www.CATLUX.de](http://www.CATLUX.de).  
Dort gibt es ausführliche Musterlösungen, Proben, Lernzielkontrollen, Schulaufgaben und Klassenarbeiten für alle Schularten, Klassen und Fächer, passend zum aktuellen Lehrplan.