



Wir üben das Subtrahieren im Zahlenraum bis 5.  
Zähle, schreibe auf und rechne!





\_\_\_\_\_ - \_\_\_\_\_ = \_\_\_\_\_



\_\_\_\_\_ - \_\_\_\_\_ = \_\_\_\_\_



\_\_\_\_\_ - \_\_\_\_\_ = \_\_\_\_\_



\_\_\_\_\_ - \_\_\_\_\_ = \_\_\_\_\_

$5 - 1 =$  \_\_\_\_\_

$2 - 2 =$  \_\_\_\_\_

$4 - 2 =$  \_\_\_\_\_

$3 - 0 =$  \_\_\_\_\_

$3 - 2 =$  \_\_\_\_\_

$5 - 3 =$  \_\_\_\_\_

$5 - 4 =$  \_\_\_\_\_

$5 - 5 =$  \_\_\_\_\_

# Lösung

Klasse 1

Subtrahieren im Zahlenraum bis 5




3



1

2



5



2

3




2




1

1



4



3

1

$$5 - 1 = 4$$

$$2 - 2 = 0$$

$$4 - 2 = 2$$

$$3 - 0 = 3$$

$$3 - 2 = 1$$

$$5 - 3 = 2$$

$$5 - 4 = 1$$

$$5 - 5 = 0$$

Weitere anspruchsvolle Proben für das Fach Mathematik findest Du auf unserer Partnerseite [www.CATLUX.de](http://www.CATLUX.de).  
Dort gibt es ausführliche Musterlösungen, Proben, Lernzielkontrollen, Schulaufgaben und Klassenarbeiten für  
alle Schularten, Klassen und Fächer, passend zum aktuellen Lehrplan.