

Gewicht und Maßeinheiten - Unités de poids et mesures






Finde für jedes Bild die französische Bezeichnung und kreuze die Maßeinheit an, die dir am wahrscheinlichsten erscheint. Pour chaque objet, trouve le mot français et choisis entre les propositions celle qui te semble juste.

	_____	_____	_____	_____	_____
a)	240*320 mm	10 m	5 cm	1500 g	90 * 150 mm
b)	2,4 * 3,2 m	10 cm	5 mm	1500 kg	9 * 15 m
c)	24 * 32 dm	10 m	5 m	1500 t	90 * 150 cm






	_____	_____	_____	_____	_____
a)	300 g	500-7000 g	55*19*8,5 cm	2,5*1,0*1,0 cm	30 kg
b)	300 kg	50 - 70 g	55*19*8,5 mm	25*10*10 dm	10 kg
c)	30 g	5 - 7 t	5 * 1 * 8 m	2,5*1,0*1,0 mm	2,5-3,0 kg

	_____	_____	_____	_____	_____
			(le plus long)		
a)	89 kg	400 t	31 m	1,0 - 1,9 m haut	bis 4,3 km/h
b)	70 - 80 kg	4000-6000 kg	25 m	1,0 - 1,9 cm	bis 43 km/h
c)	7 - 25 kg	700 t	15 m	2,5 - 3 m	70 km/h

Weitere anspruchsvolle Proben für alle Fächer findest Du auf unserer Partnerseite www.CATLUX.de. Dort gibt es ausführliche Musterlösungen, Proben, Lernzielkontrollen, Schulaufgaben und Klassenarbeiten für alle Schularten, Klassen und Fächer, passend zum aktuellen Lehrplan.

					
	un cahier	un camion	un coccinelle	Halloween	le Canada (drapeau)
a)	a) 240*320 mm	10 m	5 cm	a) 1500 g	90 * 150 mm
b)	2,4 * 3,2 m	10 cm	b) 5 mm	1500 kg	9 * 15 m
c)	24 * 32 dm	c) 10 m	5 m	1500 t	c) 90 * 150 cm

					
	une citrouille	un lapin	une gomme	un taille-crayon	un ordinateur portable
a)	a) 300 g	a) 500-7000 g	55*19*8,5 cm	a) 2,5*1,0*1,0 cm	30 kg
b)	300 kg	50 - 70 g	b) 55*19*8,5mm	25*10*10 dm	10 kg
c)	30 g	5 - 7 t	5 * 1 * 8 m	2,5*1,0*1,0 mm	c) 2,5-3,0 kg

					
	une trottinette	un tracteur	un serpent (le plus long)	un mouton	un éléphant
a)	89 kg	400 t	31 m	a) 1,0 - 1,9 m haut	bis 4,3 km/h
b)	70 - 80 kg	b) 4000-6000 kg	25 m	1,0 - 1,9 cm	b) bis 43 km/h
c)	c) 7 - 25 kg	700 t	c) 15 m	2,5 - 3 m	70 km/h