

# Arbeitsblatt für das Fach Französisch

3. Lernjahr  
Bruchzahlen – Fractions




Schreibe den farbigen Teil als Bruch in Buchstaben.  
Quelle fraction représente la partie colorée dans chaque dessin ?



A



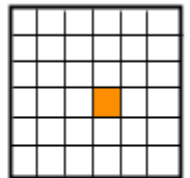
B



C



D



E

F



G



H



I

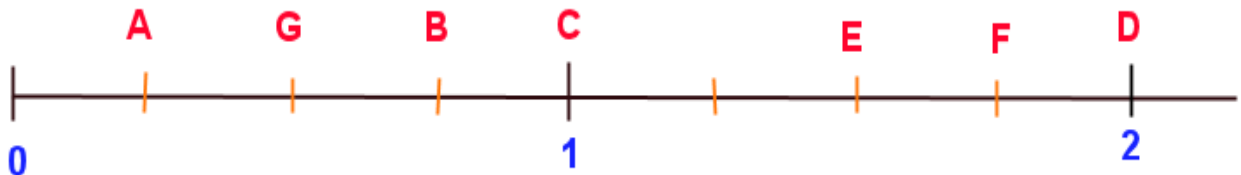


J



Zu welchem Buchstaben gehört der Bruch?

Indique la lettre où l'on peut placer les fractions suivantes :





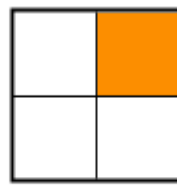
A

un quart



B

un tiers



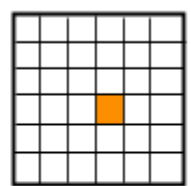
C

un quart



D

un huitième



E

un trente-sixième



F: un tiers

G: trois quarts

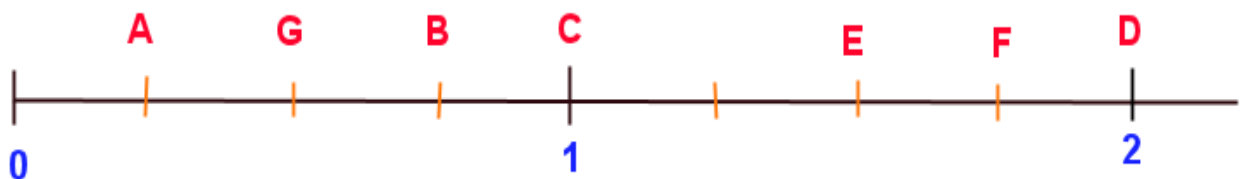
H: un demi

I: trois huitièmes

J: trois cinquièmes

Zu welchem Buchstaben gehört der Bruch?

Indique la lettre où l'on peut placer les fractions suivantes :



A = un quart

C = quatre quarts

D = huit quarts

B = trois quarts

G = un demi

E = six quarts

F = sept quarts